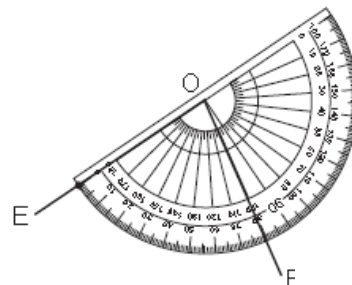
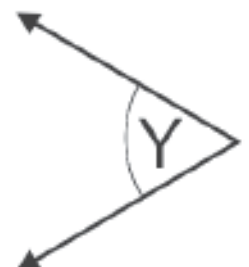
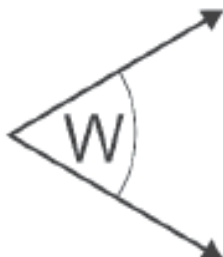
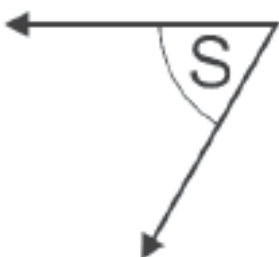




Nama : _____

TEMA 7 SUBTEMA 1

1. Sunan Kalijaga menyebarkan ajaran agama Islam melalui cara
 - a. Penaklukan wilayah
 - b. Melakukan intimidasi kepada pemeluk agama lain
 - c. Menggunakan budaya lokal sebagai sarana pengajaran
 - d. Mendirikan sekolah Islam sebagai sarana penyebaran
 2. Berikut ini yang tidak termasuk faktor internal pemicu munculnya rasa kebangsaan adalah
 - a. Kenangan kejayaan masa lalu
 - b. Perlakuan diskriminatif penjajah
 - c. lahirnya kaum terpelajar islam
 - d. perkembangan nasionalisme di berbagai negara
 3. Contoh sikap yang harus diteladani sebagai generasi penerus bangsa adalah
 - a. Berteman dengan teman satu suku
 - b. Menyukai produk luar negeri
 - c. tidak melakukan perusakan terhadap fasilitas umum
 - d. menyalahgunakan fungsi lahan
 4. Munculnya rasa kebangsaan Indonesia berasal dari keinginan kuat rakyat Indonesia untuk
 - a. Kaya
 - b. berkuasa
 - c. merdeka
 - d. menjajah
 5. Berikut perilaku yang tidak menunjukkan nilai-nilai persatuan adalah
 - a. Bermain dengan siapa saja
 - b. Berkelahi dengan teman
 - c. belajar kelompok
 - d. membantu teman
- Kerajaan Ternate dan Tidore berada di Maluku. Maluku merupakan daerah yang menjadi pusat rempah-rempah, terutama cengkeh sehingga menjadi incaran para pedagang. Termasuk bangsa Eropa, yaitu Portugis dan Spanyol. Awalnya kerajaan Ternate dan Tidore hidup dengan rukun. Namun Portugis dan Spanyol berhasil mengadu domba kedua kerajaan tersebut. akhirnya, terjadi peperangan yang berlangsung cukup lama.
6. Kesimpulan yang tepat untuk paragraf di atas adalah
 - a. Cengkeh menjadi incaran utama negara Eropa
 - b. Kerajaan Ternate dan Tidore terpecah belah akibat adu domba negara Eropa
 - c. Maluku sebagai penghasil rempah-rempah yang berkembang pesat
 - d. Terjadi perang yang cukup lama antara Portugis dan Spanyol
 7. Rekam jejak yang sesuai dengan sejarah Sultan Ageng Tirtayasa adalah
 - a. Raja ketiga kerajaan Gowa
 - b. Berjasa membangun angkatan perang
 - c. Memajukan perdagangan dengan membuka pelabuhan
 - d. Memimpin pasukan menyerang VOC di Batavia
 8. Kerajaan Islam pertama di Indonesia adalah
 - a. Aceh
 - b. Banten
 - c. Demak
 - d. Samudra Pasai
 9. Bagaimana pendapatmu jika temanmu tidak mengikuti upacara bendera untuk mengenang jasa para pahlawan
 - a. "Kita memang tidak usah ikut upacara!"
 - b. "Tidak apa-apa. Itu kan tidak wajib diikuti!"
 - c. "Wah, ia harus mendapat hukuman!"
 - d. "Seharusnya ia menaati tata tertib. Kalau tidak, ia harus diberi hukuman!"
 10. Tokoh yang mendapat julukan "Ayam jantan dari timur" adalah
 - a. Sultan Ageng Tirtayasa
 - b. Sultan Agung Hanyokrokusumo
 - c. Sultan Iskandar Muda
 - d. Sultan Hasanuddin
 11. Besar sudut berikut adalah
 - a. 75°
 - b. 80°
 - c. 100°
 - d. 120°

Perhatikan sudut berikut untuk soal no 12-14!



12. Sudut S ... sudut W.
 a. < b. = c. > d. ≠
13. Besar sudut X adalah
 a. b. c. d.
14. Sudut terkecil ditunjukkan oleh sudut
 a. S b. W c. X d. Y
15. Sudut yang memiliki besaran 88° termasuk jenis sudut
 a. Tumpul b. siku-siku c. lancip d. sembarang
16.  Gambar di samping merupakan salah satu cara pembuatan magnet yaitu dengan
 a. Induksi
 b. Menggosok
 c. Elektromagnetik
 d. Menempel
17. Berdasarkan gambar di samping, jika kedua magnet saling didekatkan yang terjadi adalah
 a. Magnet akan saling tarik menarik
 b. Magnet akan saling tolak menolak
 c. Magnet akan saling berputar
 d. Magnet akan tetap seperti semula
18. Pembuatan magnet secara induksi dilakukan dengan cara
 a. Besi digosokkan ke magnet secara searah
 b. Besi digosokkan ke magnet secara berlawanan
 c. Besi dililitkan kawat penghantar dan dialiri listrik
 d. Magnet ditempelkan atau didekatkan pada besi
19. Benda yang dapat ditarik kuat oleh magnet disebut
 a. Diamagnetis b. paramagnetis c. feromagnetis d. nonmagnetis
20. Contoh benda diamagnetis adalah
 a. Besi, nikel, kobalt b. plastik, kaca, kayu c. kromium, timah d. alumunium, seng
21. Perubahan berikut yang tidak dipengaruhi oleh masuknya ajaran Islam adalah
 a. Ajaran kasta memudar
 b. Kekuasaan Majapahit makin jaya
 c. Diadakannya acara gerebeg Maulid dan sekaten
 d. Mulai dikenalnya seni kaligrafi
22. Sultan Agung adalah raja dari kerajaan
 a. Samudra Pasai b. Mataram Islam c. Banten d. Gowa-Tallo
23. Contoh perubahan kehidupan dalam bidang pendidikan ketika masa penjajahan adalah
 a. Perkembangan kegiatan mengolah pertanian
 b. Meninggalkan tradisi keagamaan
 c. Sudah dapat menuntut ilmu melalui sekolah formal
 d. Meninggalkan benteng-benteng pertahanan
24. Perubahan kehidupan pada masa kerajaan Islam ke masa penjajahan dari kegiatan perdagangan rempah-rempah menjadi kegiatan mengolah pertanian merupakan salah satu contoh perkembangan dalam bidang
 a. Ekonomi b. sosial c. pendidikan d. politik
25. Puncak kejayaan Kerajaan Aceh terjadi pada masa pemerintahan
 a. Sultan Ageng Tirtayasa c. Sultan Iskandar Muda
 b. Sultan Agung Hanyokrokusumo d. Sultan Hasanuddin
26.  Motif pada gambar menunjukkan motif hias
 a. Padjajaran c. Bali
 b. Majapahit d. Mataram

27. Motif hias Mataram ditunjukkan oleh gambar



28. Peninggalan Kerajaan Aceh yang terkenal dan masih ada sampai sekarang adalah ...

a. Menara Kudus

c. Masjid Raya Baiturrahman

b. Masjid Agung Demak

d. Masjid Cheng Ho

29. Gambar di samping merupakan seni

a. Lukis

c. sulam

b. Rupa

d. ukir



30. Alat penangkis untuk mempertahankan diri dari serangan musuh yang berasal dari Kalimantan disebut

a. Tameng

b. kelebit

c. perisai

d. balok kayu

31. Sebutkan 3 faktor internal munculnya rasa kebangsaan di Indonesia!

32. Tuliskan 5 tokoh/raja beserta asal daerah/kerajaannya!

33. Gambarlah sudut dengan besar 115° !

34. Sebutkan 3 ciri-ciri magnet!

35. Tuliskan perubahan yang terjadi pada masa awal kemerdekaan hingga sekarang dalam bidang budaya!

36. Gambarlah salah satu motif ukiran yang ingin kamu buat!

