



Nama : _____

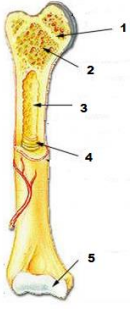
UH TEMA 6 SUBTEMA 1

- Hal-hal berikut yang merupakan ciri-ciri manusia makhluk individu adalah
 - Menjalin hubungan dengan lingkungan sekitar
 - Keinginan untuk bersosialisasi dan bermasyarakat
 - Keharusan untuk memenuhi kebutuhan hidup
 - Memiliki kepribadian yang berbeda-beda
- Yang tidak termasuk bentuk saling membutuhkan antar anggota keluarga adalah
 - Membantu ibu
 - Menolak meminjamkan mainan untuk adik
 - Mengajari adik
 - Membersihkan halaman bersama
- Perbedaan kecakapan atau kepandaian seseorang merupakan karakteristik manusia sebagai makhluk
 - Individu
 - Sosial
 - Egois
 - Sempurna
- Tujuan manusia bersosialisasi dengan lingkungan adalah
 - Mencari keuntungan
 - Mencari tempat bergantung
 - Mempertahankan diri
 - Mencari kekuasaan
- Bagian dari karakter manusia sebagai makhluk sosial adalah
 - Kehendak
 - Cita-cita
 - Semangat
 - Saling ketergantungan
- Langkah-langkah untuk menuliskan hasil diskusi yang tepat adalah
 - Mengobrol dengan teman kelompok
 - Mengikuti diskusi sampai setengah sesi
 - Mencatat pokok-pokok pembicaraan dalam diskusi
 - Menyimak diskusi yang menarik saja
- Sebelum membuat cerita komik, sebaiknya kita menentukan ... cerita yang akan ditulis.
 - Tokoh
 - Tema
 - Gambar
 - Warna
- Cerita rakyat yang dianggap sebagai kejadian yang benar-benar terjadi pada zaman dahulu disebut
 - Sejarah
 - Dongeng
 - Legenda
 - Fabel
- Berikut merupakan tokoh cerita fabel, yaitu
 - Manusia
 - Binatang
 - Tumbuhan
 - Benda di sekitar
-  Gambar di samping menggambarkan cerita legenda
 - Malin kundang
 - Sangkuriang
 - Timun Mas
 - Raksasa yang jahat
- $1,5 \text{ gros} = \dots \text{ buah}$
 - 12
 - 20
 - 216
 - 500
- Sebuah koperasi dapat menjual 2,5 kodi pensil dan 15 lusin buku tulis dalam sebulan. Jumlah barang yang terjual adalah ... buah.
 - 50
 - 80
 - 180
 - 230
- $5 \text{ rim} + 1 \text{ gros} = \dots \text{ buah}$.
 - 2512
 - 2520
 - 2644
 - 3000
- $8 \text{ gros } 3 \text{ lusin} - 4 \frac{1}{2} \text{ gros } 4 \text{ lusin} = \dots \text{ lusin}$.
 - 41
 - 42
 - 51
 - 52
- Pak Heru seorang pedagang kain. Pak Heru mempunyai persediaan 4 kodi kain batik. Hari ini terjual 18 lusin kain batik. Banyak kain batik yang belum terjual, yaitu ... lusin.
 - 24
 - 28
 - 30
 - 36
- Diana melakukan percobaan dengan menyentuh gelas berisi air es dan air panas. Anggota tubuh untuk merasakan panas dan dingin yaitu
 - Lidah
 - Kaki
 - Tangan
 - kulit
- Berikut merupakan anggota tubuh bagian bawah yaitu
 - Tangan, kaki dan dagu
 - Lutut, tumit dan betis
 - Leher, pundak dan paha
 - Mata, hidung dan telinga
-  Berdasarkan bentuknya, gambar tulang disamping merupakan jenis tulang
 - Pipa
 - Pendek

b. Pipih

d. Tak beraturan

19. Bagian tulang pipa berupa epifise ditunjukkan oleh nomor



- a. 2
- b. 3
- c. 4
- d. 5

20. Berikut yang tidak termasuk tulang pendek adalah

- a. Tulang pergelangan tangan
- b. Tulang belakang
- c. Tulang lengan atas
- d. Tulang telapak kaki

21. Yang bukan merupakan aktivitas manusia akibat perkembangan teknologi adalah

- a. Bepergian mengendarai mobil
- b. Bekerja menggunakan komputer
- c. Memasak dengan kompor gas
- d. Bertani dengan sistem ladang berpindah

22. Dapat berinteraksi jarak jauh dengan mudah dan cepat dengan manusia lain merupakan contoh perubahan kehidupan manusia di bidang

- a. Sosial
- b. Budaya
- c. Ekonomi
- d. Pendidikan

23. Pekerjaan berikut merupakan contoh aktivitas manusia pada zaman dahulu, yaitu

- a. Pekerja pabrik
- b. Pegawai kantor
- c. Bercocok tanam
- d. pengusaha

24. Faktor yang mempengaruhi perubahan aktivitas manusia berupa orientasi masa depan dicontohkan oleh

- a. Adanya interaksi antar masyarakat yang berbeda budaya
- b. Budaya sekaten merupakan perpaduan budaya Jawa dan budaya Islam
- c. Perempuan bisa berprofesi seperti laki-laki
- d. Masyarakat berusaha memperbaiki keadaan ekonomi untuk bertahan

25. Berikut yang termasuk ketergantungan masyarakat kota terhadap desa adalah

- a. Perlengkapan pakaian
- b. Bahan baku pembuatan pakaian
- c. Peralatan modern untuk membantu pekerjaan
- d. Kendaraan bermotor

26. Setiap manusia memiliki keunikan dan ciri khas tersendiri yang membedakan dengan individu lain. Jelaskan secara singkat dua faktor yang mempengaruhi perbedaan individu!

27. Sebutkan lima unsur yang harus ada dalam komik!

28. Sebuah mesin tenun mampu menghasilkan 8 lusin kain setiap hari. Jika 1 bulan = 30 hari, berapa gros kain yang dapat dihasilkan mesin tersebut? (dengan cara mengerjakan)

29. Sebutkan tiga manfaat rangka bagi manusia!

30. Berikan masing-masing satu contoh perubahan aktivitas manusia yang terjadi pada bidang sosial, ekonomi, dan pendidikan!

Sosial = _____

Ekonomi = _____

Pendidikan = _____